

Eksamen

19.05.2026

MAT1019 Matematikk 1P



Se eksamenstips på baksiden!

Nynorsk

Eksamensinformasjon	
Eksamenstid	<p>Eksamenen varer i 5 timar.</p> <p>Delen utan og delen med hjelpemiddel blir delte ut samstundes.</p> <p>Delen utan hjelpemiddel skal leverast etter 3 timar. Etter 3 timar kan du bruke hjelpemiddel.</p> <p>Delen med hjelpemiddel skal leverast innan 5 timar.</p>
Hjelpemiddel	<p>Del 1 Du kan bruke skrivesaker og linjal.</p> <p>Del 2 Du kan bruke alle hjelpemiddel, med unntak av internett og andre verktøy som tillet kommunikasjon.</p> <p>Du har ikkje lov til å bruke kunstig intelligens som hjelpemiddel under eksamen.</p>
Framgangsmåte	<p>Delen utan hjelpemiddel har 13 oppgåver. Delen med hjelpemiddel har 4 oppgåver.</p> <p>Der oppgåveteksten ikkje seier noko anna, kan du fritt velje framgangsmåte. Dersom oppgåva krev ein bestemt løysingsmetode, kan ein alternativ metode gi noko utteljing.</p> <p>Bruk av digitale verktøy som rekneark, programmering, grafteiknar og CAS skal dokumenterast.</p>
Rettleiing om vurderinga	<p>Poeng er berre rettleiande i vurderinga. Karakteren blir fastsett etter ei samla vurdering. Det betyr at sensorane vurderer i kva grad du</p> <ul style="list-style-type: none">• kan bruke hensiktsmessige omgrep og strategiar til å utforske og løyse matematiske problem• kan kommunisere eigne løysingar og resonnement gjennom bruk av hensiktsmessige representasjonar• kan lage, nytte, tolke og kritisk vurdere matematiske modellar• kan vurdere, resonnerer og argumentere for eigne og andre sine framgangsmåtar og løysingar• kan gjere greie for mønster og samanhengar og nytte dette i berekningar og resonnement
Kjelder	Sjå kjeldeliste på side 22.

DEL 1

Utan hjelpemiddel

Oppg ve 1 (1 poeng)

Ein bonde har 60 sauer. 80 % av sauene skal slaktast.
Kor mange sauer skal slaktast?

Oppg ve 2 (1 poeng)

Ein familie les av vassm laren og ser at dei i l pet
av det siste  ret har brukt 120 m^3 vatn.

Kor mange liter vatn har familien i gjennomsnitt brukt kvar m nad?

Oppg ve 3 (1 poeng)

Rekn ut

$$250\,000\,000 \cdot 0,000\,008$$

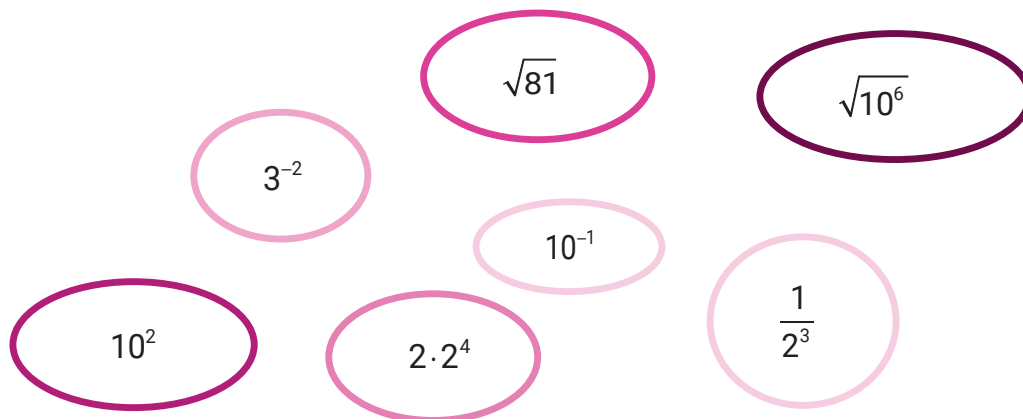
Oppg ve 4 (1 poeng)

Antal personar	10	20	
Pris per person (kroner)	600		100

Skriv av og fyll ut tabellen ovanfor slik at antal personar og pris per person blir omvendt proporsjonale storleikar.

Oppg ve 5 (2 poeng)

Gjer berekningar og sorter tala i stigande rekkjef lgje.



Oppg ve 6 (1 poeng)

Prisen for ei vare blir sett opp med 10 %.
Litt seinare blir prisen sett ned igjen med 10 %.

Kostar vara no meir enn, mindre enn eller det same som ho gjorde f r dei to prisendingane? Hugs   grunngi svaret.

Oppgave 7 (2 poeng)

Christoffer har kjøpt ny båt. Verdien av båten er 850 000 kroner. Anta at verdien vil falle med 20 % det første året og så med 6 % per år dei neste fem åra.

Sett opp eit uttrykk som kan brukast for å rekne ut verdien av båten etter seks år.

Oppgave 8 (2 poeng)

Ei stålplate har form som eit rektangel. Plata er 1000 mm lang, 500 mm brei og 6 mm tjukk.

Stål har ein massetettleik på 8 g/cm^3

Kor mykje veg stålplata?

Oppgave 9 (4 poeng)

Petter, Ola og Ine eig kvar si hytte. Hyttene ligg i eit stort hyttefelt. På vegen inn til hyttefeltet er det sett opp ein bom. Alle hytteeigarane må betale ei fast årsavgift for å kunne bruke vegen. I tillegg må dei betale for kvar bompassering.

- I fjor passerte Petter bommen 40 gonger. Han betalte til saman 3200 kroner i årsavgift og for passeringar.
- Ola passerte bommen 100 gonger og betalte til saman 6200 kroner.

a) Kor mykje betaler kvar hytteeigar i årsavgift? Kva er prisen per bompassering?

b) Sett opp ein lineær modell som viser samanhengen mellom antal bompasseringar og den totale prisen kvar hytteeigar må betale kvart år.

Ine betalte til saman 5200 kroner.

c) Kor mange gonger passerte ho bommen?

Oppg ve 10 (2 poeng)

Susanne arbeider med talf lgja

1 3 7 13 21 ...

Ho ser eit m nster og skriv

$$0 \cdot 1 + 1 = 1$$

$$1 \cdot 2 + 1 = 3$$

$$2 \cdot 3 + 1 = 7$$

$$3 \cdot 4 + 1 = 13$$

- a) Bestem tal nummer 8 i talf lgja.
- b) Set opp ein formel som Susanne kan bruke for finne tal nummer n i talf lgja.

Oppg ve 11 (3 poeng)

Ei bedrift produserer ei vare. Kostnadene $K(x)$ kroner ved produksjon av x einingar av vara er gitt ved

$$K(x) = x^2 + b \cdot x + 20\,000$$

- a) Bestem $K(0)$. Kva fortel denne verdien om kostnadene ved produksjonen?

Det kostar 30 000 kroner   produsere 50 einingar.

- b) Bestem b .

Oppg ve 12 (2 poeng)

Lufttettleik er eit m l p  kor mykje luftmasse det er i eit bestemt volum – alt  s  kor tettpakka lufta er.

I t rr luft er samanhengen mellom lufttettleiken L , trykket p og temperaturen T gitt ved

$$L = \frac{p}{287 \cdot T}$$

Argumenter for om kvar p stand nedanfor er sann eller usann.

P stand 1

N r temperaturen er konstant, er trykk og lufttettleik proporsjonale storleikar.

P stand 2

Lufttettleik og temperatur er omvendt proporsjonale storleikar.

Oppg ve 13 (4 poeng)

I 2026 består ein fuglebestand av 20 000 individ. Sofie er forskar. Ho antek at bestanden vil minke dei kommande  ra. Ho har laga to modellar og skrive programkoden nedanfor.

```
1 x = 0      # x er antall  r etter 2026
2
3 def f(x):
4     return 20000 - 300 * x
5
6 def g(x):
7     return 20000 * 0.984 ** x
8
9 while f(x) >= g(x):
10    x = x + 1
11
12 print("Resultat:")
13 print(x)
14 print(f(x))
15 print(g(x))
```

Resultat:

10

17000

17020.83963620087

- Gi ei praktisk tolking av modellane f og g .
- Kva  nskjer Sofie   finne ut?
Kva fortel verdiane som blir skrivne ut n r programmet blir k yrt?

DEL 2

Med hjelpemiddel

Oppg ve 1 (5 po

Fru Hansen eig ein ga km/h, slepper bilen
ut $U(x)$ gram CO₂ per

$$U(x) = \frac{5400}{x} + 0,0074x^2 + 50 \quad , \quad 30 < x < 110$$

- Kor mange gram CO₂ slepper bilen ut per kilometer dersom fru Hansen k yrer med ein fart p  50 km/h?
- Kva fart gir minst utslepp av CO₂ per kilometer?
Kor mange gram CO₂ slepper bilen ut per kilometer ved denne farten?

Fru Hansen k yrer med ein fart p  90 km/h i 20 minutt.

- Kor mange gram CO₂ slepper bilen ut i l pet av desse 20 minutta?

Oppg ve 2 (2 poeng)

I september 2025 sette Noregs Bank ned styringsrenta fr  4,25 % til 4 %.

- Kor mange prosentpoeng blei styringsrenta sett ned med?
- Kor mange prosent blei styringsrenta sett ned med?

Oppgave 3 (6 poeng)

Vipa er ein kritisk trua fugleart i Noreg.

I 2013 blei bestanden av viper anslått til å vere omtrent 9000 par. I 2022 var bestanden omtrent 2500 par.

År	2013	2022
Vipebestand (par)	9000	2500

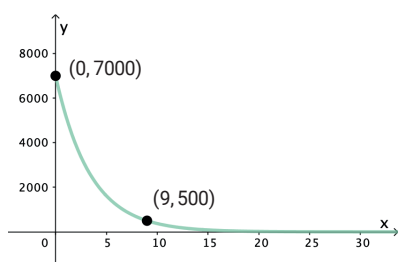
Tor antek at bestanden av viper har avteke lineært og vil halde fram med å avta lineært i åra framover. Egil antek at nedgangen har vore, og framleis vil vere, eksponentiell.

La x være antal år etter 2013.

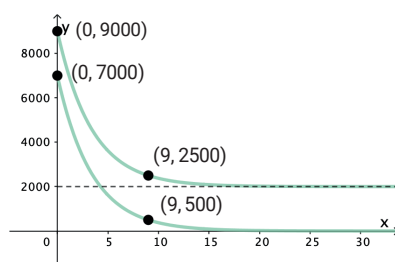
- a) Lag ein modell f som viser utviklinga av vipebestanden ut frå det Tor antek. Forklar kva modellen fortel om utviklinga.
- b) Lag ein modell g som viser utviklinga av vipebestanden ut frå det Egil antek. Forklar kva modellen fortel om utviklinga.

Myndigheiter og interesseorganisasjonar arbeider med å verne hekkeområda til vipa. Dei håper at dette skal bidra til å stoppe nedgangen, slik at bestanden vil stabilisere seg.

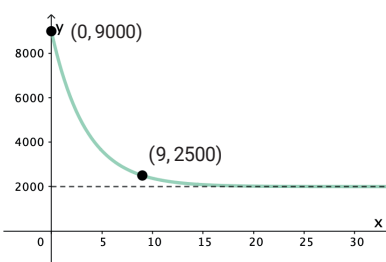
Egil ønskjer å lage ein ny modell som tek omsyn til dette. Han lagar først den eksponentielle modellen p . Så endrar han litt på denne og kjem fram til modellen q . Nedanfor ser du grafane til dei to modellane.



Modellen p



Modellen p og modellen q



Modellen q

- c) Gjer greie for kva Egil har anteke når han kom fram til modellen q . Bestem $p(x)$ og $q(x)$.

Oppgave 4 (4 poeng)

For å varme opp 1 liter vatn 1 grad celsius krevst ein energi på 4184 joule (J).

Når kaldt vatn kjem inn i ein varmtvasstank, er temperaturen omtrent 10 °C. I varmtvasstanken blir vatnet varma opp til 70 °C.

a) Vis at å varme opp 100 L vatn frå 10 °C til 70 °C krev ein energi på $2,51 \cdot 10^7$ J.

Når Martin dusjar, bruker han 15 liter vatn per minutt. Vatnet i dusjen er ei blanding av varmt vatn frå varmtvasstanken og kaldt vatn med ein temperatur på 10 °C. Vatnet i dusjen har ein temperatur på 40 °C.

Martin har funne ut at han kan bruke formelen nedanfor til å finne ut kor mange liter vatn V frå varmtvasstanken han bruker per minutt når temperaturen på vatnet i dusjen er T °C

$$V = \frac{T - 10}{4}$$

Ein dag dusjar Martin i 10 minutt. Vatnet i dusjen har ein temperatur på 40 °C.

- b) Kor mange liter vatn frå varmtvasstanken bruker han?
- c) Kor mykje energi krevst for å varme opp vatnet han bruker frå varmtvasstanken?

Når vi betaler for den elektriske energien vi bruker, betaler vi per kilowatttime (kWh).
1 kWh = $3,6 \cdot 10^6$ J

Ein morgon var straumprisen 134 øre per kWh.

d) Kor mykje kosta det Martin å ta ein dusj på 10 minutt denne morgonen?

Bokmål

Eksamensinformasjon	
Eksamenstid	<p>Eksamenen varer i 5 timer. Delen uten og delen med hjelpemidler blir delt ut samtidig.</p> <p>Delen uten hjelpemidler skal leveres etter 3 timer. Etter 3 timer kan du bruke hjelpemidler.</p> <p>Delen med hjelpemidler skal leveres innen 5 timer.</p>
Hjelpemidler	<p>Del 1 Du kan bruke skrivesaker og linjal.</p> <p>Del 2 Du kan bruke alle hjelpemidler, med unntak av internett og andre verktøy som tillater kommunikasjon.</p> <p>Du har ikke lov til å bruke kunstig intelligens som hjelpemiddel under eksamen.</p>
Framgangsmåte	<p>Delen uten hjelpemidler har 13 oppgaver. Delen med hjelpemidler har 4 oppgaver.</p> <p>Der oppgaveteksten ikke sier noe annet, kan du fritt velge framgangsmåte. Dersom oppgaven krever en bestemt løsningsmetode, kan en alternativ metode gi noe uttelling.</p> <p>Bruk av digitale verktøy som regneark, programmering, graftegner og CAS skal dokumenteres.</p>
Veiledning om vurderingen	<p>Poeng er bare veiledende i vurderingen. Karakteren blir fastsatt etter en samlet vurdering. Det betyr at sensorene vurderer i hvilken grad du</p> <ul style="list-style-type: none">• kan bruke hensiktsmessige begreper og strategier til å utforske og løse matematiske problemer• kan kommunisere egne løsninger og resonnementer gjennom bruk av hensiktsmessige representasjoner• kan lage, anvende, tolke og kritisk vurdere matematiske modeller• kan vurdere, resonnere og argumentere for egne og andres framgangsmåter og løsninger• kan gjøre rede for mønstre og sammenhenger og anvende dette i beregninger og resonnementer
Kilder	<p>Se kildeliste på side 22.</p>

DEL 1

Uten hjelpemidler

Oppgave 1 (1 poeng)

En bonde har 60 sauer. 80 % av sauene skal slaktes.
Hvor mange sauer skal slaktes?

Oppgave 2 (1 poeng)

En familie leser av vannmåleren og ser at de i løpet
av det siste året har brukt 120 m^3 vann.

Hvor mange liter vann har familien i gjennomsnitt brukt hver måned?

Oppgave 3 (1 poeng)

Regn ut

$$250\,000\,000 \cdot 0,000\,008$$

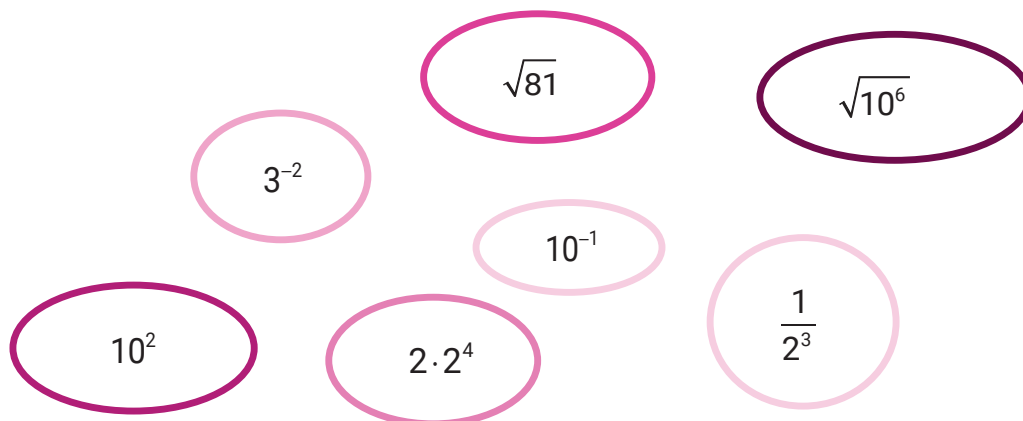
Oppgave 4 (1 poeng)

Antall personer	10	20	
Pris per person (kroner)	600		100

Skriv av og fyll ut tabellen ovenfor slik at antall personer og pris per person blir omvendt proporsjonale størrelser.

Oppgave 5 (2 poeng)

Gjør beregninger og sorter tallene i stigende rekkefølge.



Oppgave 6 (1 poeng)

Prisen for en vare settes opp med 10 %.
Litt senere settes prisen ned igjen med 10 %.

Koster varen nå mer enn, mindre enn eller det samme som den gjorde før de to prisendringene? Husk å begrunne svaret.

Oppgave 7 (2 poeng)

Christoffer har kjøpt ny båt. Båtens verdi er 850 000 kroner. Anta at verdien vil falle med 20 % det første året og så med 6 % per år de neste fem årene.

Sett opp et uttrykk som kan brukes for å regne ut båtens verdi etter seks år.

Oppgave 8 (2 poeng)

En stålplate har form som et rektangel. Platen er 1000 mm lang, 500 mm bred og 6 mm tykk.

Stål har en massetetthet på 8 g/cm^3

Hvor mye veier stålplaten?

Oppgave 9 (4 poeng)

Petter, Ola og Ine eier hver sin hytte. Hyttene ligger i et stort hyttefelt. På veien inn til hyttefeltet er det satt opp en bom. Alle hytteeierne må betale en fast årsavgift for å kunne bruke veien. I tillegg må de betale for hver bompassering.

- I fjor passerte Petter bommen 40 ganger. Han betalte til sammen 3200 kroner i årsavgift og for passeringer.
- Ola passerte bommen 100 ganger og betalte til sammen 6200 kroner.

a) Hvor mye betaler hver hytteeier i årsavgift?
Hva er prisen per bompassering?

b) Sett opp en lineær modell som viser sammenhengen mellom antall bompasseringer og den totale prisen hver hytteeier må betale hvert år.

Ine betalte til sammen 5200 kroner.

c) Hvor mange ganger passerte hun bommen?

Oppgave 10 (2 poeng)

Susanne arbeider med tallfølgen

1 3 7 13 21 ...

Hun ser et mønster og skriver

$$0 \cdot 1 + 1 = 1$$

$$1 \cdot 2 + 1 = 3$$

$$2 \cdot 3 + 1 = 7$$

$$3 \cdot 4 + 1 = 13$$

- a) Bestem tall nummer 8 i tallfølgen.
- b) Sett opp en formel som Susanne kan bruke for finne tall nummer n i tallfølgen.

Oppgave 11 (3 poeng)

En bedrift produserer en vare. Kostnadene $K(x)$ kroner ved produksjon av x enheter av varen er gitt ved

$$K(x) = x^2 + b \cdot x + 20\,000$$

- a) Bestem $K(0)$. Hva forteller denne verdien om kostnadene ved produksjonen?

Det koster 30 000 kroner å produsere 50 enheter.

- b) Bestem b .

Oppgave 12 (2 poeng)

Lufttetthet er et mål på hvor mye luftmasse det er i et bestemt volum – altså hvor tettepakket luften er.

I tørr luft er sammenhengen mellom lufttettheten L , trykket p og temperaturen T gitt ved

$$L = \frac{p}{287 \cdot T}$$

Argumenter for om hver påstand nedenfor er sann eller usann.

Påstand 1

Når temperaturen er konstant, er trykk og lufttetthet proporsjonale størrelser.

Påstand 2

Lufttetthet og temperatur er omvendt proporsjonale størrelser.

Oppgave 13 (4 poeng)

I 2026 består en fuglebestand av 20 000 individer. Sofie er forsker. Hun antar at bestanden vil minke de kommende årene. Hun har laget to modeller og skrevet programkoden nedenfor.

```
1 x = 0      # x er antall år etter 2026
2
3 def f(x):
4     return 20000 - 300 * x
5
6 def g(x):
7     return 20000 * 0.984 ** x
8
9 while f(x) >= g(x):
10    x = x + 1
11
12 print("Resultat:")
13 print(x)
14 print(f(x))
15 print(g(x))
```

```
Resultat:
10
17000
17020.83963620087
```

- a) Gi en praktisk tolkning av modellene f og g .
- b) Hva ønsker Sofie å finne ut?
Hva forteller verdiene som skrives ut når programmet kjøres?

DEL 2 Med hjelpemidler

Oppgave 1 (5 po

Fru Hansen eier en ga
 $U(x)$ gram CO₂ per kil

km/h, slipper bilen ut

$$U(x) = \frac{5400}{x} + 0,0074x^2 + 50 \quad , \quad 30 < x < 110$$

- a) Hvor mange gram CO₂ slipper bilen ut per kilometer dersom fru Hansen kjører med en fart på 50 km/h?
- b) Hvilken fart gir minst utslipp av CO₂ per kilometer?
Hvor mange gram CO₂ slipper bilen ut per kilometer ved denne farten?

Fru Hansen kjører med en fart på 90 km/h i 20 minutter.

- c) Hvor mange gram CO₂ slipper bilen ut i løpet av disse 20 minuttene?

Oppgave 2 (2 poeng)

I september 2025 satte Norges Bank ned styringsrenten fra 4,25 % til 4 %.

- a) Hvor mange prosentpoeng ble styringsrenten satt ned med?
- b) Hvor mange prosent ble styringsrenten satt ned med?

Oppgave 3 (6 poeng)

Vipa er en kritisk truet fugleart i Norge.

I 2013 ble bestanden av vipper anslått til å være omtrent 9000 par. I 2022 var bestanden omtrent 2500 par.

År	2013	2022
Vipebestand (par)	9000	2500

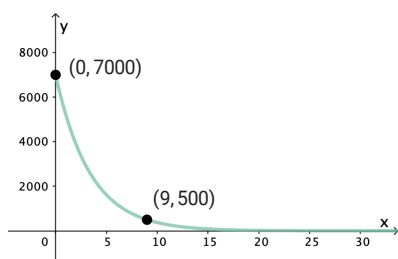
Tor antar at bestanden av vipper har avtatt lineært og vil fortsette å avta lineært i årene framover. Egil antar at nedgangen har vært, og fortsatt vil være, eksponentiell.

La x være antall år etter 2013.

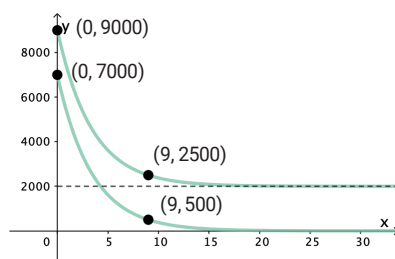
- a) Lag en modell f som viser utviklingen av vipebestanden ut fra Tors antakelser. Forklar hva modellen forteller om utviklingen.
- b) Lag en modell g som viser utviklingen av vipebestanden ut fra Egils antakelser. Forklar hva modellen forteller om utviklingen.

Myndigheter og interesseorganisasjoner arbeider med å verne hekkeområdene til vipa. De håper at dette skal bidra til å stoppe nedgangen, slik at bestanden vil stabilisere seg.

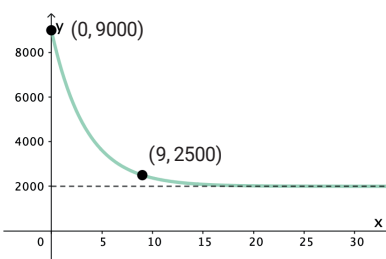
Egil ønsker å lage en ny modell som tar hensyn til dette. Han lager først den eksponentielle modellen p . Så endrer han litt på denne og kommer fram til modellen q . Nedenfor ser du grafene til de to modellene.



Modellen p



Modellen p og modellen q



Modellen q

- c) Gjør rede for hvilke antakelser Egil har lagt til grunn for modellen q . Bestem $p(x)$ og $q(x)$.

Oppgave 4 (4 poeng)

For å varme opp 1 liter vann 1 grad celsius kreves en energi på 4184 joule (J).

Når kaldt vann kommer inn i en varmtvannstank, er temperaturen omtrent 10 °C. I varmtvannstanken varmes vannet opp til 70 °C.

a) Vis at å varme opp 100 L vann fra 10 °C til 70 °C krever en energi på $2,51 \cdot 10^7$ J.

Når Martin dusjer, bruker han 15 liter vann per minutt. Vannet i dusjen er en blanding av varmt vann fra varmtvannstanken og kaldt vann med en temperatur på 10 °C. Vannet i dusjen har en temperatur på 40 °C.

Martin har funnet ut at han kan bruke formelen nedenfor til å finne ut hvor mange liter vann V fra varmtvannstanken han bruker per minutt når temperaturen på vannet i dusjen er T °C

$$V = \frac{T - 10}{4}$$

En dag dusjer Martin i 10 minutter. Vannet i dusjen har en temperatur på 40 °C.

b) Hvor mange liter vann fra varmtvannstanken bruker han?

c) Hvor mye energi kreves for å varme opp vannet han bruker fra varmtvannstanken?

Når vi betaler for den elektriske energien vi bruker, betaler vi per kilowatttime (kWh).
1 kWh = $3,6 \cdot 10^6$ J

En morgen var strømprisen 134 øre per kWh.

d) Hvor mye kostet det Martin å ta en dusj på 10 minutter denne morgenen?

Kilder

Del 1

Oppgave 1

Illustrasjon: Pixabay/1899441

Oppgave 2

Bilde: AxFlow AS

Del 2

Oppgave 1

Illustrasjon: Pixabay/sismadipujiantoro

Oppgave 3

Bilde: iStock/CreativeNature_nl

Oppgave 4

Illustrasjon: Pixabay/IdeaTivas-TLM

Andre bilder, tegninger og grafiske framstillinger: Utdanningsdirektoratet

Blank side

TIPS TIL DEG SOM AKKURAT HAR FÅTT EKSAMENSOPPGÅVA:

- Start med å lese oppgaveinstruksen godt.
- Hugs å føre opp kjeldene i svaret ditt dersom du bruker kjelder.
- Les gjennom det du har skrive, før du leverer.
- Bruk tida. Det er lurt å drikke og ete undervegs.

Lykke til!

TIPS TIL DEG SOM AKKURAT HAR FÅTT EKSAMENSOPPGAVEN:

- Start med å lese oppgaveinstruksen godt.
- Husk å føre opp kildene i svaret ditt hvis du bruker kilder.
- Les gjennom det du har skrevet, før du leverer.
- Bruk tiden. Det er lurt å drikke og spise underveis.

Lykke til!